

LEIA ATENTAMENTE AS INSTRUÇÕES ABAIXO

01- Você recebeu do fiscal o seguinte material:

a) Este caderno com o enunciado das 40 (quarenta) questões objetivas divididas nas seguintes sessões:

LÍNGUA PORTUGUESA		MATEMÁTICA	
Questões	Pontos	Questões	Pontos
1 a 20	2,5	21 a 40	2,5

b) Uma (1) Folha de Respostas, destinada às respostas das questões objetivas formuladas nas provas, a ser entregue ao fiscal no final.

02- Verifique se este material está em ordem e se o seu nome e número de inscrição conferem com os que aparecem na confirmação de inscrição. Caso contrário, notifique **IMEDIATAMENTE** o fiscal.

03- Após a conferência, o candidato deverá assinar no espaço próprio da Folha de Respostas, preferivelmente à caneta esferográfica de tinta na cor preta ou azul.

04- Tenha muito cuidado com a Folha de Respostas para não a **DOBRAR, AMASSAR** ou **MANCHAR**. A folha somente poderá ser substituída caso esteja danificada em suas margens superior ou inferior – **BARRA DE RECONHECIMENTO PARA LEITURA ÓTICA**.

05- Na prova, as questões objetivas são identificadas pelo número que se situa acima do enunciado

06- Na folha de respostas, as mesmas estão identificadas pelo mesmo número e as alternativas estão identificadas acima da questão de cada bloco de respostas.

07- Para cada uma das questões objetivas são apresentadas 5 alternativas classificadas com as letras (A), (B), (C), (D) e (E); só uma responde adequadamente ao quesito proposto. Você só deve assinalar **UMA RESPOSTA**. A marcação de nenhuma ou de mais de uma alternativa anula a questão, **MESMO QUE UMA DAS RESPOSTAS SEJA A CORRETA**.

08- Na **Folha de Respostas**, a marcação das letras correspondentes às respostas certas deve ser feita cobrindo **TODO O ESPAÇO** compreendido pelo retângulo pertinente à alternativa, usando **caneta esferográfica de tinta preta ou azul**, de forma contínua e densa. A LEITORA ÓTICA é sensível a marcas escuras, portanto, preencha os campos de marcação completamente, procurando deixar menos "espaços em branco" possível dentro do retângulo, sem invadir os limites dos retângulos ao lado.

09 – **SERÁ ELIMINADO** do Concurso o candidato que:

a) Se utilizar, durante a realização das provas, de máquinas, relógios e/ou aparelhos de calcular, bem como rádios gravadores, fones de ouvido, telefones celulares ou fontes de consulta de qualquer espécie;

b) Se ausentar da sala em que se realizam as provas levando consigo o **Caderno de Questões e a Folha de Respostas**.

10- Reserve os 30 (trinta) minutos finais para marcar sua **Folha de Respostas**. Os rascunhos e as marcações assinaladas no Caderno de Questões **NÃO SERÃO LEVADOS EM CONTA**.

11- Quando terminar, entregue ao fiscal o Caderno de Questões e a Folha de Respostas, e **ASSINE A LISTA DE PRESENÇA**.

12- **O TEMPO DE DURAÇÃO DA PROVA PARA TODOS OS CARGOS É DE 4 (QUATRO) HORAS**.

TEXTO 1**Do tempo da vergonha***Martha Medeiros*

A gente costuma dar referências do "nosso tempo", como se o nosso tempo não fosse hoje. Sou do tempo do tênis Conga, da Família Dó-Ré-Mi, da Farrah Fawcett, do Minuano Limão, e essa listagem alonga a estrada atrás de nós, faz parecer que somos de outro século. E somos.

Eu sou do tempo de tanta coisa, inclusive do tempo em que as pessoas sentiam vergonha. Você já deve ter reparado que a vergonha caiu em desuso, a nova geração não deve nem saber do que se trata. Mas a tia aqui vai explicar.

Vergonha é o que você sente quando coloca em risco a sua dignidade. Por exemplo, quando pegam você mentindo. Ou quando flagram você fazendo uma coisa que havia jurado não fazer. Às vezes, a vergonha vem de atos corriqueiros, como um tropeção no meio de uma passarela ou uma gafe cometida num jantar. Isso não tem nada de grave, porém, se fez você sentir vergonha, sinal de que planejava acertar, o que é sempre bom.

Vergonha de ser apresentada a alguém? De falar em público? Também é bobagem, ninguém espera de nós perfeição. Isso é apenas timidez. Será que quem nasceu depois dos anos 80 sabe o que é timidez? Bom, timidez é um certo recato, é quando uma pessoa não faz questão nenhuma de aparecer. Não ria, isso existe.

Mas voltando ao que nos trouxe aqui: vergonha é o que você deveria sentir quando faz algo errado. É o que deveria sentir quando se desresponsabiliza pelo que está desmoronando à sua volta. Vergonha é quando você se habilita para uma tarefa importante e descobre que não tem competência para executá-la. Vergonha é o que se sente quando interferimos na vida dos outros de forma desastrosa. Vergonha é o que deveria nos impedir de praticar hábitos aparentemente inocentes, como chegar atrasado ao teatro quando a peça já começou, e nos impedir de coisas bastante mais sérias, como roubar.

E há a vergonha sem culpa, a vergonha pelo que representamos coletivamente. Eu, ao menos, senti muita vergonha quando uma turista estrangeira, depois de ficar dois dias confinada num aeroporto brasileiro, sem conseguir embarcar, perguntou a um repórter o que significava o lema "Ordem e progresso" na nossa bandeira.

Muitos políticos (pra citar uma classe trabalhadora aleatória) não têm vergonha. Possuem contas no exterior, assessores de marketing, mas vergonha, nenhuma. Posam para fotografias ao lado daqueles de quem já xingaram a mãe e aceitam o apoio de adversários que já lhes puxaram o tapete. Quando se trata de fazer alianças, a política, de um modo geral, revela-se um bordel, e perdão se estou ofendendo as profissionais do ramo. É bem verdade que restam dois ou três que têm a decência de dizer: prefiro não me eleger a jogar no lixo meus princípios. Mas para se posicionar assim, é preciso ser do tempo da bala azedinha vendida em lata, do tempo do "Boa noite, John Boy", do tempo dos Novos Baianos, do tempo em que Páscoa significava ressurreição e do tempo em que existia vergonha, coisa que quase ninguém mais sente, poucos lembram o que é e ninguém se esforça para reavivar.

(MEDEIROS, Martha. "Do tempo da vergonha". *Revista O Globo*. Rio de Janeiro: Jornal O Globo, 141, ano 3, 8 abril, 2007, p. 23.)

CHARGE I



◆ Língua Portuguesa ◆Questão 01

A partir da leitura do texto “Do tempo da vergonha”, de Martha Medeiros, é possível afirmar que:

- A) trata-se de um texto reflexivo sobre a falta de responsabilidade e o descompromisso que se generalizaram nos últimos tempos
- B) trata-se de um texto argumentativo sobre a vida da autora e sobre suas experiências num mundo que não tem vergonha
- C) trata-se de um texto expositivo sobre a crescente valorização dos escrúpulos e da honra nas últimas décadas em detrimento à falta de vergonha
- D) trata-se de um texto narrativo sobre a vida íntima da autora e de suas impressões a respeito dos valores do mundo que a cerca
- E) trata-se de um texto descritivo sobre as mudanças comportamentais ocorridas a partir da década de 80, segundo a visão da autora

Questão 02

Martha Medeiros define o termo “vergonha” de várias maneiras em seu texto. Das alternativas abaixo, qual é a que está de acordo com o sentido extraído do verbete do Dicionário Aurélio transcrito a seguir: “vergonha(...) 6 – sentimento da própria dignidade; brio, honra.”?

- A) “Vergonha é o que você sente quando coloca em risco a sua dignidade.”
- B) “a vergonha vem de atos corriqueiros, como um tropeção no meio de uma passarela ou uma gafe cometida num jantar.”
- C) “Vergonha de ser apresentada a alguém? De falar em público?”
- D) “Vergonha é o que se sente quando interferimos na vida dos outros de forma desastrosa.”
- E) “Vergonha é o que deveria nos impedir de praticar hábitos aparentemente inocentes, como chegar atrasado ao teatro quando a peça já começou.”

Questão 03

“Quando se trata de fazer alianças, a política, de um modo geral, revela-se um bordel, e perdão se estou ofendendo as profissionais do **ramo**.”.

No trecho destacado, o termo em negrito faz referência a:

- A) alianças
- B) política
- C) bordel
- D) profissionais
- E) ofensas

Questão 04

“Eu sou do tempo de tanta coisa, inclusive do tempo em que as pessoas sentiam vergonha”.

A partir da leitura do trecho acima é possível entender que:

- A) hoje é o tempo do excesso de vergonha
- B) antigamente era o tempo da falta de vergonha
- C) futuramente será o tempo da falta de vergonha
- D) hoje é o tempo em que a vergonha foi reestabelecida
- E) antigamente era o tempo em que vergonha existia

Questão 05

Sabemos que há bastante importância em conhecer bem a língua portuguesa; embora, certamente, seja uma tarefa contínua, que demanda dedicação.

Dos grupos de palavras abaixo, assinale a alternativa que **NÃO** apresenta todas as palavras escritas corretamente:

- A) árvore, escolha, óvulo
- B) estômago, falcatrua, volante
- C) afta, excerto, limbo
- D) dado, ombro, rítimo
- E) carro, motor, pneu

Questão 06

Do texto “Do tempo da vergonha” retirou-se o seguinte trecho: “E há a vergonha sem culpa”. O verbo que nele aparece está no modo Indicativo e pertence ao tempo:

- A) imperativo
- B) infinitivo
- C) presente
- D) passado
- E) futuro

Questão 07

Em “muitos políticos (pra citar uma classe trabalhadora aleatória) não têm vergonha”, a palavra sublinhada é acentuada pelo mesmo motivo que:

- A) família
- B) pó
- C) vôo
- D) português
- E) lâmpada

Questão 08

As palavras abaixo passaram pelo processo de divisão silábica padrão, **EXCETO**:

- A) pn-eu
- B) ab-di-car
- C) i-guais
- D) pror-ro-gar
- E) ra-i-nha

Questão 09

Observe atentamente os elementos que compõem a CHARGE I. Pode-se relacioná-la ao TEXTO I porque:

- A) o personagem demonstra constrangimento ao se revelar uma pessoa mentirosa
- B) o personagem não demonstra pudor ao se revelar uma pessoa não-confiável
- C) o personagem demonstra extremo desconforto ao se revelar uma pessoa corruptível
- D) o personagem não demonstra culpa ao se revelar uma pessoa em que se poderia confiar
- E) o personagem demonstra contentamento ao se revelar uma pessoa extremamente confiável

Questão 10

“Mas a tia aqui vai explicar.”. Essa frase extraída do texto “Do tempo da vergonha” está se referindo a quem?

- A) aos sem-vergonha
- B) a um personagem
- C) à autora
- D) à tia de um personagem
- E) à tia da autora

Questão 11

“**Nem** na minha mãe eu confio”. O termo em negrito do trecho destacado da CHARGE I possui a idéia de:

- A) oposição
- B) concessão
- C) confirmação
- D) adição
- E) subtração

Questão 12

É o que **deveria sentir** quando desresponsabiliza ...”

Qual o sentido que o emprego da locução verbal acima destacada, no Futuro do Pretérito, fornece ao fragmento?

- A) uma ação cuja realização é obrigatória
- B) uma ação cuja realização é incompleta
- C) uma ação cuja realização depende de uma condição
- D) uma ação cuja realização é definitiva
- E) uma ação cuja realização é parcial

Questão 13

Apenas uma das alternativas abaixo apresenta todas as formas verbais corretas e aplicadas adequadamente. Assinale-a:

- A) Meu primo João Paulo vêm almoçar conosco todos os dias, embora sempre chegue atrasado.
- B) Estes frascos contém soluções aquosas, aqueles ficam vazios.
- C) Os alunos, mesmo os que estão no ensino superior, lêem pouco.
- D) Pássaros do hemisfério sul migraram no próximo inverno.
- E) A não ser que ela, sua esposa, embarcar na hora, nós iremos nos atrasar.

Questão 14

Das palavras abaixo, qual a que é formada pelo mesmo processo de **desresponsabiliza**:

- A) caudaloso
- B) recheado
- C) anoitecido
- D) refeito
- E) recebido

Questão 15

Qual das alternativas abaixo completa corretamente o trecho a seguir: “_____, depois de _____ o livro de Machado, as leituras de Bandeira e Drummond. Quando finalizarmos essas tarefas estaremos aptos a _____ o questionário.”?

- A) falta; ler; responder
- B) falta; lermos; responder
- C) faltam; lermos; respondermos
- D) faltam; ler; respondermos
- E) faltam; lermos; responder

Questão 16

Em qual das alternativas abaixo a pontuação foi empregada corretamente?

- A) Maurício filho de André, empregado de uma empresa, de montagem e manutenção de computadores, é casado, tem dois filhos e não gosta de jogar futebol.
- B) Maurício, filho de André, empregado de uma empresa, de montagem e manutenção de computadores, é casado, tem dois filhos e não gosta de jogar futebol.
- C) Maurício filho de André, empregado de uma empresa, de montagem e manutenção de computadores é casado, tem dois filhos, e não gosta de jogar futebol.
- D) Maurício, filho de André, empregado de uma empresa de montagem e manutenção de computadores, é casado, tem dois filhos e não gosta de jogar futebol.
- E) Maurício filho de André, empregado, de uma empresa de montagem e manutenção de computadores, é casado, tem dois filhos e não gosta de jogar futebol.

Questão 17

Em qual das alternativas abaixo o sufixo emprega à palavra a mesma idéia que em **mulherio**?

- A) boiada
- B) bebedouro
- C) livraria
- D) pousada
- E) dormitório

Questão 18

Das alternativas abaixo, qual aquela que **NÃO** apresenta uma relação antonímica entre os pares?

- A) dia/noite
- B) aberto/fechado
- C) cheio/vazio
- D) inocência/perdão
- E) soberba/humildade

Questão 19

Assinale, dentre as palavras, aquela cujo plural se forma do mesmo modo que em **elixir**:

- A) fuzil
- B) cruz
- C) bombom
- D) vintém
- E) papel

Questão 20

Leia os trechos a seguir:

- I - “como se o nosso tempo não fosse hoje.”
- II - “Não ria, isso existe.”
- III - “E há a vergonha sem culpa.”
- IV - “do tempo em que Páscoa significava ressurreição.”

Os verbos sublinhados acima, nos trechos II, III e IV, respectivamente, estão no mesmo tempo, modo e pessoa do verbo no trecho I em:

- A) rimos; havemos; significamos
- B) ríssemos; houvésssemos; significássemos
- C) risse; houvesse; significasse
- D) risse; houve; significassem
- E) risse; houvesse; signifique

♦ Matemática ♦

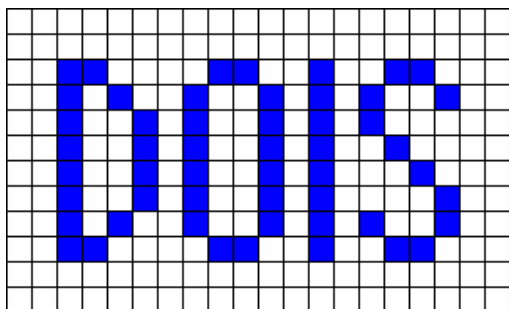
Questão 21

O tanque de gasolina do carro do meu irmão tem capacidade para 40 litros. Sabendo que o tanque estava cheio e que eu gastei 0,05 da gasolina e minha irmã gastou 0,2 do tanque, podemos afirmar que SOBRARAM no tanque:

- A) 10 litros
- B) 15 litros
- C) 20 litros
- D) 25 litros
- E) 30 litros

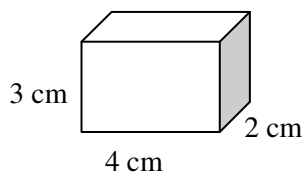
Questão 22

A área da figura (**DOIS**) é composta por 52 quadradinhos. Utilizando a letra **I** como unidade mínima de área, podemos afirmar que a área da figura (**DOIS**) é:



- A) $\frac{13}{2}$ **I**
- B) 7 **I**
- C) 4 **I**
- D) 12 **I**
- E) $\frac{16}{3}$ **I**

Questão 23



Para enchermos a caixa acima com cubinhos de 1 cm^3 são necessários 24 cubinhos. Podemos afirmar que para enchermos uma segunda caixa em que as medidas sejam o dobro das medidas da caixa ao lado serão necessários:

- A) 48 cubinhos de 1 cm^3
- B) 72 cubinhos de 1 cm^3
- C) 192 cubinhos de 1 cm^3
- D) 326 cubinhos de 1 cm^3
- E) 576 cubinhos de 1 cm^3

Questão 24

Quantos múltiplos de 3 encontramos entre 14 e 207 inclusive?

- A) 70
- B) 65
- C) 64
- D) 60
- E) 39

Questão 25

Para organizar seus CDs, Mônica comprou um porta CD com capacidade para 20 CDs. Toda manhã ela guardava 2 CDs no porta CDs e toda noite retirava 1 CD para ouvir que só era repostado na manhã seguinte. Podemos afirmar que Mônica conseguiu completar, pela primeira vez, seu porta CDs na:

- A) manhã do 10º dia
- B) manhã do 19º dia
- C) noite do 19º dia
- D) manhã do 20º dia
- E) noite do 20º dia

Questão 26

Ao resolvermos a expressão $\left[(0,2)^2 + \left(\frac{5}{10}\right)^2 \right] - \frac{9}{100}$ encontramos:

- A) 1,2
- B) 0,8
- C) 0,5
- D) 0,2
- E) 0,1

Questão 27

O número de minutos em um ano bissexto é :

- A) 525600
- B) 527040
- C) 525000
- D) 555000
- E) 600000

Questão 28

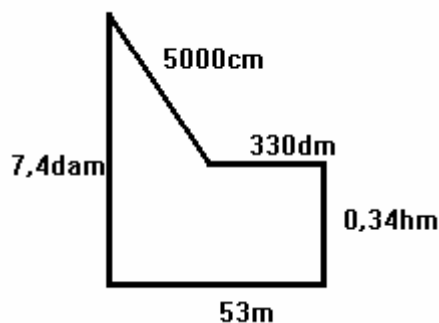
O quántuplo da terça parte de 15 multiplicado pela metade do quántuplo da sexta parte de 24 é igual a:

- A) 110
- B) 120
- C) 130
- D) 140
- E) 150

Questão 29

André vai cercar um terreno que mede 40m x 25m com arame farpado. Ele pretende cercá-lo com três voltas de arame farpado e cada rolo de arame farpado tem 50 metros. Quantos rolos de arame farpado ele precisará comprar?

- A) 6 rolos
- B) 7 rolos
- C) 8 rolos
- D) 9 rolos
- E) 3 rolos

Questão 30

Qual é, em metros, o perímetro da figura acima?

- A) 244
- B) 5491
- C) 5390,74
- D) 170,74
- E) 24,4

Questão 31

Um certo tipo utilitário pode transportar no máximo quarenta caixas de remédios, todas com as mesmas dimensões. O setor de transportes da prefeitura dispõe de três desses utilitários. O número mínimo de viagens necessárias para um utilitário desse tipo transportar 500 caixas de remédios é

- A) 4
- B) 5
- C) 6
- D) 7
- E) 8

Questão 32

Observe o cardápio e os preços abaixo:

LANCHONETE DA GARAGEM			
BEBIDAS		SANDUÍCHES	
Café.....	R\$ 0,30	Queijo.....	R\$ 1,00
Copo de leite.....	R\$ 0,50	Mortadela.....	R\$ 0,85
Café com leite.....	R\$ 0,50	Presunto.....	R\$ 1,50
Refrigerante.....	R\$ 1,20	Misto quente.....	R\$ 2,80
Suco de Laranja.....	R\$ 1,50	Bauru.....	R\$ 4,50
Água.....	R\$ 1,00	Lingüiça.....	R\$ 1,80
SALGADOS			
Pão de Queijo.....	R\$ 1,80		
Pastel.....	R\$ 1,00		
Empada.....	R\$ 1,20		
Coxinha.....	R\$ 1,10		

Escolhendo uma bebida, um sanduíche e um salgado:

- A) o pedido mais barato é de R\$ 2,50
 B) o pedido mais barato é de R\$ 2,30
 C) o pedido mais caro é de R\$ 5,50
 D) o pedido mais caro é de R\$ 7,80
 E) nessas condições é impossível determinar os pedidos mais barato ou mais caro

Questão 33

Das 120 bobinas armazenadas em um almoxarifado, 40% tem 60 metros cada, e as restantes 70 metros cada. O número de metros de bobinas armazenadas no almoxarifado é:

- A) 7920
 B) 8000
 C) 8350
 D) 8920
 E) 9000

Questão 34

O quadro abaixo representa o extrato bancário e mostra a movimentação da conta do Senhor P. A.Z. no período de 04/06/2007 a 10/06/2007:

BANCO ETC E TAL – EXTRATO			
CONTA CORRENTE: XXXXX-XXX - P.A.Z.			
DATA	DEPÓSITO	RETIRADA	SALDO
04/06/2007	-	-	R\$ 315,00
06/06/2007	R\$ 1200,00	R\$ 839,00	X
08/06/2007	R\$ 985,00	-	X
10/06/2007	-	R\$ 1300,00	X
11/06/2007			X

Se em 11/06/2007 o senhor P. A. Z. tentou retirar de sua conta R\$ 500,00, podemos afirmar que

- A) Conseguiu, pois seu saldo era de R\$ 661,00
 B) Conseguiu, pois seu saldo era de R\$ 539,00
 C) Não conseguiu, pois seu saldo era de R\$ 461,00
 D) Não conseguiu, pois seu saldo era de R\$ 361,00
 E) Não conseguiu, pois seu saldo era de R\$ 139,00

Questão 35

Dez amigos se reuniram para organizar uma festa. O custo da festa foi calculado em R\$ 600,00. Entretanto, conseguiram o patrocínio de um supermercado que lhes deu um desconto de R\$ 245,00. O restante da despesa foi repartido igualmente entre eles. A quantia paga por cada um deles foi :

- A) R\$ 24,00
 B) R\$ 24,50
 C) R\$ 34,00
 D) R\$ 35,00
 E) R\$ 35,50

Questão 36

Uma geladeira pode ser comprada à vista por R\$ 900,00 ou a prazo (em seis prestações fixas de R\$ 180,00). Nesse contexto, podemos afirmar que o valor à vista é:

- A) $\frac{1}{3}$ do valor a prazo
- B) $\frac{2}{3}$ do valor a prazo
- C) $\frac{1}{6}$ do valor a prazo
- D) $\frac{5}{6}$ do valor a prazo
- E) $\frac{4}{5}$ do valor a prazo

Questão 37

Um comerciante comprou seis quilogramas de presunto fatiado e dividiu essa quantidade em pacotes de duzentos gramas cada um. O número de pacotes feitos foi de:

- A) 60
- B) 45
- C) 36
- D) 30
- E) 27

Questão 38

Sabe-se que as cidades A, B, C e D, nessa ordem, são ligadas por uma única estrada. A distância entre A e B é de 32,5 quilômetros. A distância da cidade B até a cidade C é o dobro da distância entre A e B. Se a distância entre as cidades A e D é de 157,5 quilômetros. A distância entre as cidades C e D, em quilômetros, é:

- A) 60 km
- B) 60,5 km
- C) 65 km
- D) 65,5 km
- E) 67,5 km

Questão 39

Num cinema com 350 lugares, os ingressos custam R\$ 6,00 a meia-entrada e R\$ 12,00 a inteira. Numa sessão com todos os lugares ocupados foram vendidas 120 meias-entradas. A quantia arrecadada nessa sessão foi:

- A) R\$ 2100,00
- B) R\$ 2820,00
- C) R\$ 3480,00
- D) R\$ 4800,00
- E) R\$ 6390,00

Questão 40

O número de possibilidades de escolha para uma pizza e um suco em uma pizzeria que oferece 45 sabores pizza e 8 tipos de sucos é:

- A) 90
- B) 120
- C) 180
- D) 360
- E) 450